

**NIRMALA MATHA CENTRAL
SCHOOL, THRISSUR**

CLASS II

QUESTION BANK

TERM II

2022-23

English
Lesson - 6
Down the Rabbit Hole

1. Do you like animals like rabbits and know where they live?
2. Can you describe a rabbit?
3. What did you understand by the word, 'tunnel'?
4. Was the hole in which Alice fell, dark or light?
5. What were on the walls of the tunnel?
6. Where did Alice actually fall into
7. What did she see while falling down the hole?
8. Who is 'Dinah'?
9. What did Alice see in her dream?
10. What question was she not able to answer in her dream?

Lesson - 7
The Day the Sun Went Hiding

1. What kind of a day it was in the beginning of the story?
2. What did the sun do in the morning?
3. Which animals commented that it was very quiet?
4. Which animals wept because it was dark?
5. Why did the sheep bleat?
6. What was the fox's wife doing when she did not find her own cubs?
7. How did the rabbit comfort the fox?
8. Which animal saved the sun?
9. What comment did the sun tell when it came out?
10. What is the meaning of 'eclipse'?

Lesson - 8

The Hidden Gift

1. Whose birthday it was?
2. What did she do for her birthday?
3. What game did Meenal's mother arrange in the garden?
4. Why did everyone become puzzled?
5. How many parcels did Meenal's mother actually hide?
6. Who got the second parcel?
7. Who had actually kept the second parcel in the garden?
8. What did Vinod do with the golden bars?
9. Who did the children cheer for?
10. Why was it a special birthday?

Lesson - 9

Things Are Puzzling

1. Whom did Cristina meet while walking through a field?
2. Was Cristina a polite or impolite girl?
3. Why did not the creatures know Cristina?
4. Did Christina answer to all the animals?
5. What did the tortoise answer Christina?
6. Did Cristina get tired or not after answering her question ?
7. What is the explanation given by the tortoise?
8. What was not puzzling at all?
9. Did Cristina get tired of answering to all the animals and what has she understood?

Lesson - 10

The Beach

1. Have you been to a beach?
2. Where were the parents, teachers and students of Class 2 going?
3. What did each teacher do?
4. How much time did each student spend in the beach?
5. After playing in the water, what did the students do?
6. What did the teachers announce that they would have in the afternoon?
7. What did the shell that John and Mariam have on it?
8. What did Mr. Regina do with the shell?
9. What did the teachers tell that would do with the shell?

Answer Key

Lesson - 6

Down the Rabbit Hole

1. Yes, they live in burrows in the forests.
2. A rabbit is either white or brown in colour. It has long ears and hops away.
3. The word, 'tunnel' means a long narrow hole which is made by nature.
4. It was dark.
5. There were filled on the sides with cupboards and bookshelves.
6. Alice in her dream, fell into a rabbit-hole or burrow.
7. She saw here and there maps and pictures hung upon pegs.
8. 'Dinah', is Alice's pet cat.
9. Alice saw a dream, in which she was falling into a rabbit hole.
10. She was not able to answer in her dreams whether cats eat bats or bats eat cats

Lesson - 7 The Day the Sun Went Hiding

1. It was a bright morning.
2. It smiled at everyone.
3. It was commented by the storks and cranes.
4. All the birds and little creatures wept, because it was dark.
5. The sheep bleated and asked someone to bring back the sun.
6. The fox's wife was calling out for her cubs and they did not answer.
7. The rabbit comforted the fox by asking it to be brave and grab the crocodile by his collar.
8. The fox saved the sun from the mouth of the crocodile .
9. The sun commented that it was good to take rest once in a while.
10. An 'eclipse' means the sun is hidden and so everything becomes dark.

Lesson - 8 The Hidden Gift

1. It was Meenal's birthday.
2. Meenal's mother had invited Meenal's friends for her birthday.
3. Meenal's mother had arranged a 'treasure hunt' game in the garden.
4. Everyone became puzzled because Rita and Vinod had both found two parcels while Meenal's mother had hidden only one parcel.
5. Meenal's mother hid only one parcel.
6. The second parcel was got by Vinod.
7. The second parcel was the golden bars which was kept by the thief.
8. Vinod handed over the gold bars to the two policemen.
9. The children cheered for finding out the thief.
10. The friends of Meenal not only enjoyed the birthday party but also helped the policemen to find out the thief.

Lesson - 9 Things Are Puzzling

1. Christina met seven animals while walking through the field.
2. Cristina was a very polite girl. Her mother had asked her to do so.
3. The creatures did not know Cristina because they were seeing her for the first time.

4. Yes, Cristina patiently answered to all the animals.
5. The tortoise answered that it did not think of asking her “What are you”?
6. Yes, Cristina got tired of answering but she was very patiently answering them.
7. The tortoise said that what others say is not important but must follow one’s own self.
8. Cristina decided to go home and have dinner and this was not puzzling at all.
9. Yes, but she understood that she should have her own opinion, even when everyone is trying to allure her.

Lesson - 10 The Beach

1. Yes/No, I have been to a beach (or) I have never been to a beach.
2. The parents, teachers and the students of class 2 are going for a picnic to the beach.
3. Each teacher took the children in groups of four to the water. Each group spent half an hour in the water.
4. Each student had spend half an hour in the water.
5. After playing in the water, the teacher had asked them to collect the biggest and beautiful shell.
6. The teacher announced that they would look for seashells on the beach. There would be 3 prizes for the 3 biggest shells.
7. The shell that John and Mariam got had a beautiful design, with the shell gleaming on the underside.
8. Ms. Regina took the shell to the waterfront and got it washed well.
9. The teacher said that the shell would be kept in the school shelf.

മലയാളം

പാഠം 10

കളിയാടീടാൻ വരുമോ നീ?

1. കളിയാടീടാൻ വരുമോ നീ എന്ന കവിത എഴുതിയതാര്?
2. ചെറുപയ്യൻ ആരെല്ലാമാണ് കളിക്കാൻ വിളിക്കുന്നത്?
3. ചുള്ളികളാൽ കൂടു ചമയ്ക്കാൻ പോകുന്നതാര്?
4. പൂക്കളിലെ തേൻ നുകരാൻ പോകുന്നതാര്?
5. യജമാനന്റെ വാതിലു കാക്കാൻ പോകുന്നതാര്?
6. നാണിച്ചാ പോയല്ലോ കളരിയിലും.

പാഠം 11

പരസ്പരസഹായം

1. ഒരു ദിവസം ഒരു മനുഷ്യന്റെ ശരീരത്തിലെ തമ്മിൽ ഒരു നടന്നു.
2. “ഞാൻ ചിന്തിക്കുന്നതുകൊണ്ടും നിർദ്ദേശം തരുന്നതുകൊണ്ടുമാണ് നിങ്ങൾ പ്രവർത്തിക്കുന്നത്”. എന്ന് പറഞ്ഞതാര്?
3. “ഞങ്ങൾ കാണുന്നതുകൊണ്ടാണ് നിങ്ങൾ വല്ല കുഴിയിലും വീണ് ഒടിഞ്ഞും ചതഞ്ഞും നശിക്കാത്തത്“ എന്ന് പറഞ്ഞതാര്?
4. തമ്മിൽ മുത്തപ്പോൾ ഓരോരുത്തരായി പണിമുടക്കി.
5. മറ്റവയവങ്ങൾക്ക് നിർദ്ദേശം കൊടുത്തു.
6. “ആരും ഒട്ടും പക്ഷേ ഒറ്റയ്ക്കൊറ്റയ്ക്ക് ആർക്കും നിലനില്പുമില്ല.
7. ശരിയായ പദം തിരഞ്ഞെടുത്ത് എഴുതുക.

വാഗ്വാദം, വാഗ്വാദം

സാമർത്ഥ്യം, സാമർത്ഥ്യം

8. പരസ്പരസഹായം എന്ന കഥ എഴുതിയതാര്?
9. പരസ്പരസഹായം എന്ന കഥ ഏത് കഥാവിഭാഗത്തിൽപ്പെടുന്നു?

പാഠം 12

ബന്ധുരകാഞ്ചനക്കൂട്

1. ബന്ധുരകാഞ്ചനക്കൂട് എന്ന കവിത എഴുതിയതാര്?
2. കിളികൾക്കായ് ഒരുക്കിയ വിഭവങ്ങൾ എന്തെല്ലാമായിരുന്നു?
3. വിരൂന് വിളമ്പിയത് എന്തിലായിരുന്നു?
4. കിളികൾക്ക് ആതിഥ്യമൊരുക്കിയത് ആരാണ്?

പാഠം 13

ജലദേവത

1. മരംവെട്ടുക്കാരുന്റെ പേരെന്ത്?
2. മരം വെട്ടുന്നതിനിടയിൽ രാമുവിന്റെ കൈയിൽ നിന്ന് തെറിച്ച് വീണത് എന്ത്?
3. കോടാലി തെറിച്ച് തൊട്ടടുത്തുള്ള വീണ്.
4. ഉടൻതന്നെ നദിയിലേക്ക് ചാടി മുങ്ങിത്തപ്പി നോക്കി.
5. രാമു ഉടൻതന്നെ നദിയിലേക്ക് ചാടി നോക്കി.
6. വെട്ടിത്തിളങ്ങുന്ന ഒരു സ്വർണക്കോടാലിയുമായി ഉയർന്ന് വന്നതാര്?
7. ദേവത മറഞ്ഞു.
8. രാമുവിന്റെ കോടാലി തിരികെ കൊടുത്തതാര്?
9. ദേവതയ്ക്ക് നന്ദി പറഞ്ഞതാര്?
10. ദേവതയ്ക്ക് സമ്മാനമായി നൽകിയത് എന്ത്?
11. ജലദേവത നൽകിയ അനുഗ്രഹം എന്ത്?

പാഠം 14

എന്റെ നിറം

1. മരതകത്തിന്റെ നിറം എന്ത്?
2. ആഴകടലിന്റെ നിറമെന്ത്?
3. എന്റെ നിറം എന്ന കവിത എഴുതിയതാര്?
4. ചേമനിയുടെയും മൂക്കുറ്റിയുടെയും കൊന്നപ്പുവിന്റെയും നിറമെന്ത്?
5. ചെന്താമരയുടെ നിറമെന്ത്?
6. തുമ്പപ്പുവിന്റെ നിറമെന്ത്?
7. മഞ്ഞനിറമുള്ള മൂന്നു പൂക്കളുടെ പേരെഴുതുക.

പാഠം 16

കഴുത വെള്ളത്തിൽ വീണു

1. കഴുതയുടെ കയർ പിടിച്ച് പട്ടണത്തിൽ നിന്ന് വന്നതാര്?
2. “കണ്ടേ, കഴുതയുണ്ടായിട്ടും അച്ഛനും മകനും അതാ നടന്നുപോകുന്നു. അത്ഭുതം തന്നെ” എന്ന് പറഞ്ഞതാര്?
3. ഉടനെ അച്ഛൻ മകനെ കയറ്റിയിരുത്തി യാത്ര തുടർന്നു
4. ഗ്രാമത്തിലുള്ള ചിലർ അവരെ നോക്കി കൊണ്ട് പറഞ്ഞു.
5. മകനെ നടത്തിച്ച് അച്ഛൻ കഴുതപുറത്ത്
6. ഒരു നദിക്കരയിലെത്തിയപ്പോൾ ആളുകൾ അവരെ
7. കഴുതയുടെ കൂട്ടിക്കെട്ടി അതിനെ ചുമലിലേറ്റി നടന്നു.
8. കഴുത എവിടെയാണ് പിടഞ്ഞ് വീണത്?
9. മറ്റുള്ളവർ പറയുന്നത് അനുസരിച്ച് പ്രവർത്തിച്ചതിനാൽ അവർക്ക് നഷ്ടമായി.

ഉത്തരങ്ങൾ

പാഠം 10

കളിയാടീടാൻ വരുമോ നീ?

1. പന്തളം കേരളവർമ്മ
2. പൈങ്കിളിയെ, വണ്ടത്താനേ, ചെറുനായേ, യജമാനനെ
3. പൈങ്കിളി
4. വണ്ടത്താൻ
5. ചെറുനായ
6. ചെറുപയ്യൻ

പാഠം 11

പരസ്പരസഹായം

1. അവയവങ്ങൾ, വാഗ്വാദം
2. തലച്ചോർ
3. കണ്ണുകൾ
4. തർക്കം
5. തലച്ചോർ
6. അപ്രധാനരല്ല.
7. വാഗ്വാദം, സാമർത്ഥ്യം
8. കിളിറൂർ രാധാകൃഷ്ണൻ
9. ഈസോപ്പുകഥകൾ

പാഠം 12

ബന്ധുരകാഞ്ചനക്കുട്

1. വള്ളത്തോൾ നാരായണമേനോൻ
2. കാച്ചിയ പാല്, തേൻ, നല്ല പഴങ്ങൾ
3. തുവെള്ളിക്കിണിത്തിൽ
4. പെൺക്കിടാവ്

പാഠം 13

ജലദേവത

- | | |
|------------------------------------|-------------------------------------|
| 1. രാമു | 2. കോടാലി |
| 3. നദിയിൽ | 4. രാമു |
| 5. മുങ്ങിത്തപ്പി | 6. ദേവത |
| 7. നദിയിൽ | 8. ദേവത |
| 9. രാമു | 10. സ്വർണ്ണക്കോടാലി, വെള്ളിക്കോടാലി |
| 11. സുഖമായി ജീവിക്കാനുള്ള അനുഗ്രഹം | |

പാഠം -14

എന്റെ നിറം

- | | |
|-------------------------------|----------|
| 1. പച്ച | 2. നീല |
| 3. എസ്. സരസ്വതി അമ്മ | 4. മഞ്ഞ |
| 5. ചുവപ്പ് | 6. വെള്ള |
| 7. ചേമന്തി, മുക്കുറ്റി, കൊന്ന | |

പാഠം 16

കഴുത വെള്ളത്തിൽ വീണ്

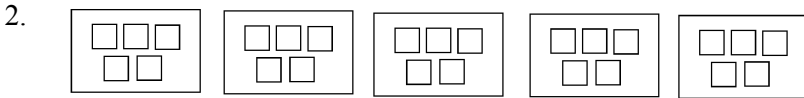
- | | |
|------------------------------|--------------------|
| 1. ഒരു ചുമട്ടുക്കാരനും മകനും | 2. തെരുവിലുണ്ടായവർ |
| 3. കഴുതപ്പുറത്ത് | 4. ചിരിച്ചു |
| 5. വിശ്രമിക്കുന്നു | 6. കളിയാക്കി |
| 7. കാലുകൾ | 8. പുഴയിൽ |
| 9. കഴുതയെ | |

Maths
Lesson - 7
Multiplication


I. Fill in the blanks.



..... groups, in each groups.

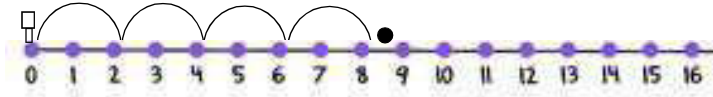


..... groups, in each groups.



..... groups, in each groups.

II.1. How many jumps of 2 will the bat make to reach the ball?



4 jumps of 2

$4 \times 2 = \dots\dots\dots$



..... jumps of 2

..... $\times = 16$

III. Complete the table.

	Multiplication	Repeated Addition	Answer
1.	2×5	$5 + 5$	
2.		$2 + 2 + 2 + 2 + 2 + 2$	
3.	4×10		
4.			35
5.	7×2		

IV. Find missing numbers in the boxes.

1.

1	2	3	4	5	6
	4		8	10	

2.

1	2	3	4	5	6
	20		40		60

Lesson -8

More Multiplication

I. Fill in the blanks.

- $3 \times 2 = \dots\dots\dots$
- $5 \times \dots\dots\dots = 10$
- $\dots\dots \times \dots\dots = 16$
- $6 \times 5 = \dots\dots\dots$
- $4 \times 8 = \dots\dots\dots$

II. Solve the following.

- | | | | | | |
|----|------------|----|------------|----|------------|
| 1. | 21 | 2. | 42 | 3. | 95 |
| | $\times 2$ | | $\times 3$ | | $\times 3$ |
| | <hr/> | | <hr/> | | <hr/> |
| 4. | 71 | 5. | 66 | 6. | 73 |
| | $\times 4$ | | $\times 5$ | | $\times 5$ |
| | <hr/> | | <hr/> | | <hr/> |

III. Do as directed:

1. Colour 3 times table using green from the below table.
2. Colour 4 times table using red from the table.
3. Colour 6 times table using blue from the table.

6	1	12	35	32	0	27	24
17	40	4	10	15	11	14	23
2	9	18	28	21	12	29	30
25	8	3	19	36	20	42	7
45	17	70	16	50	22	20	8

IV. Answer the following:-


1. A pen costs ₹2. How much would 6 pens cost?
2. How many legs would 7 cats have?
3. How many legs do 5 tables have?
4. A box contain 6 eggs. How many eggs will be there in 8 such boxes?

Lesson -10

Measurement

I. Circle the correct one.

1.



a mango

100 g / 2kg



slice of bread

6 g / 16 kg



a pencil

2 g / 20 kg

II. Fill in the blanks.

1. is used to measure small quantity of honey. (ml / l)
2. is used to find the length of a saree (m / cm)

3. is used to measure a sack of fruits. (Kg / g)

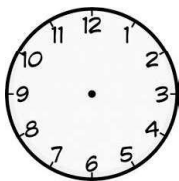
III. True or False.

1. A gram is used to weigh heavy objects .
2. Length of a pencil is about 10cm.
3. Weight of a chair is measured using grams.
4. We use litres to measure larger quantities of liquid.
- V. What would you use to measure these
 1. Syringe
 2. Water in a can.
 3. Milk in bottle
 4. A brick
 5. Length of black board

Lesson - 11

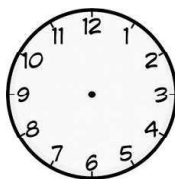
Time

- I.a.** You wake up at



..... o'clock

- b. You go to bed at



..... o'clock

II. Fill in the blanks.

1. It takes to walk from classroom to school gate (minute/hour)
2. It takes to reach school from my home (minute/hours)

III. According to the given time draw the arms of the clock.

1. 7: 30
2. 12:15
3. 1:35
4. 9:50

IV. Fill in the blanks using later or earlier.

1. 8 o'clock is 3 hours than 11 o'clock.
2. 10'clock is 3 hours than 4 o'clock.

V. Write one day before and after

1. thursday
2. sunday

VI. Answer the following.

1. We celebrate children's day in the month of
2. Which is the shortest month of the year?
3. My birthday falls in the month of
4. Write the month that comes before and after
 - a) February
 - b) April
 - c) June

VII. The time is 4:30. Draw the arms of the clock.

- a) Half an hour before
- b) Two hour before
- c) Half an hour after.

Lesson - 12

Money

I. Count the coins or notes and write it in the box given.

1.    = ₹.....

2.    = ₹.....

3.    = ₹.....

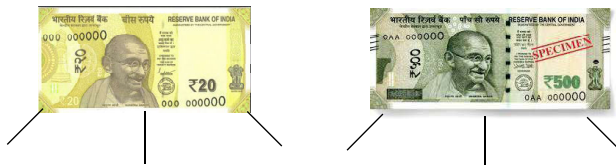
II. Which is the greatest amount of money?

a)  

b)  

c)  

III. Exchange these money as change.



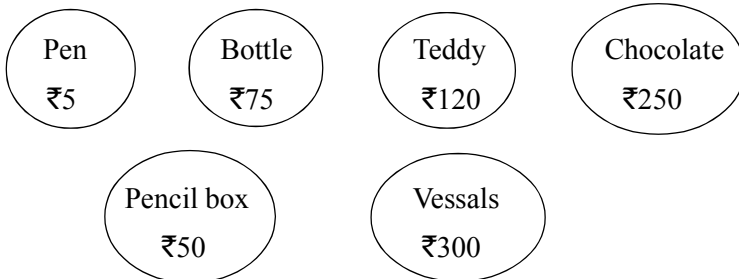
IV. Find total cost.



V. Choose objects which you can buy using the given money.



-----> you have



VI. Answer the following.

1. Anu has ₹50 with her. Cost of chocolate is ₹32. How much money will be left with her after buying chocolate?

Answer key
Multiplication

- I.1.** 5 groups, 2 in each, $5 \times 2 = 10$
2. 5 groups, 5 in each, $5 \times 5 = 25$
3. 11 groups, 3 in each, $11 \times 3 = 33$
- II.** 1. 8 2. 8 jumps of 2, $8 \times 2 = 16$
- III.** 1. 10 2. $2 \times 6, 12$ 3. $10 + 10 + 10 + 10, 40$
4. $7 \times 5, 5 + 5 + 5 + 5 + 5 + 5 + 5$
5. $2 + 2 + 2 + 2 + 2 + 2 + 2, 14$
- IV.** 1. 2, 6, 12 2. 10, 30, 50

More Multiplication.

- I.** 1. 6 2. 2 3. 4×4 4. 30 5. 32
- II.** 1. 42 2. 126 3. 285 4. 284 5. 330
6. 365
- III.** Table of 3 - 3, 6, 9, 12, 15, 18, 21, 24, 27, 30 (green colour)
Table of 4 - 4, 8, 12, 16, 20, 24, 28, 32, 36, 40 (red colour)
Table of 6 - 6, 12, 18, 24, 30, 36, 42, 48, 54, 60 (blue colour)
- IV.** 1. $6 \times 2 = 12$ 2. $7 \times 4 = 28$
3. $5 \times 4 = 20$ 4. $8 \times 6 = 48$

Measurement

- I.** 1. 100g 2. 6 g 3. 2g
- II.** 1. ml 2. m 3. kg
- III.** 1. False 2. True 3. False 4. True
- IV.** 1. ml 2. l 3. l 4. kg 5. m

Time

- I.** Free response
- II.** 1. minute 2. hours
- III.** Draw
- IV.** 1. earlier 2. earlier
- V.** 1. Wednesday, friday 2. Saturday, monday
- VI.** 1. November 2. February 3. Free response
4. a) January, March b) March, May c) May, July
- VII.** a) 4:00 b) 2:30 c) 5:00

Money

- I.** 1. ₹8 2. ₹155 3. ₹530
- II.** 105
- III.** 1. ₹10, ₹5, ₹5 2. ₹200, ₹200, ₹100
- IV.** 1. ₹120 2. ₹45
- V.** Free response
- VI.** ₹18
